


8. NALOGA: NAJPREJ BREZ ŠTETJA POVEJ, KOLIKO BALONOV JE NA SLIKI IN TO ŠTEVILO ZAPIŠI V ZGORNJI KVADRATEK. NATO BALONE PREŠTEJ IN NAPIŠI, KOLIKO JE VSEH BALONOV. SI PRAVILNO OCENIL/A ŠTEVILO BALONOV? ☺

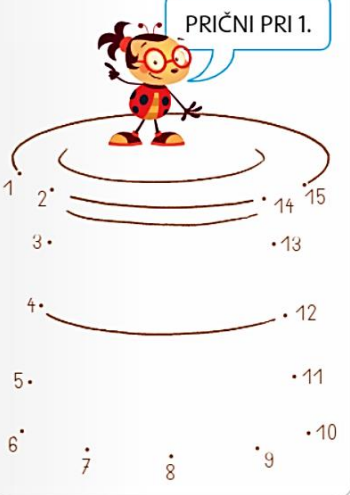
OCENI IN NAPIŠI, KOLIKO JE VSEH BALONOV.




ZDAJ BALONE PREŠTEJ IN NAPIŠI, KOLIKO JIH JE.

9. NALOGA: POVEŽI PIKE. PRI PIKAPOLONICI POLONI ZAČNI PRI ŠTEVILKI 1, NA MAJEVI SLIKI PA ZAČNI PRI 15. ME PRAV ZANIMA, KAJ BO NASTALO.

PRIČNI PRI 1.



PRIČNI PRI 15.





BRAVO! KONČAL/A SI. DOVOLJ MATEMATIKE ZA TA TEDEN. NADALJUJEMO V TOREK.