

RAČUNAM DO 10

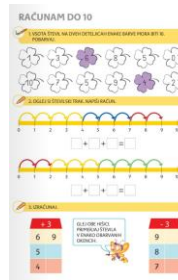


POTREBOVAL/A BOŠ

IN




ODPRI NA STRANI 73















IN REŠI 1. NALOGO.

1. NALOGA

VSOTA (REZULTAT) ŠTEVIL NA DVEH DETELJICAH, KI JU BOŠ POBARVAL/A, MORA BITI 10. BARVE SI IZBERI SAM/A. EN PRIMER JE ŽE NAREJEN.

 1. VSOTA ŠTEVIL NA DVEH DETELJICAH ENAKE BARVE MORA BITI 10. POBARVAJ.

2. NALOGA


NA ŠTEVILSKEM TRAKU IMAŠ NARISANE PUŠČICE S 3 RAZLIČNIMI BARVAMI.

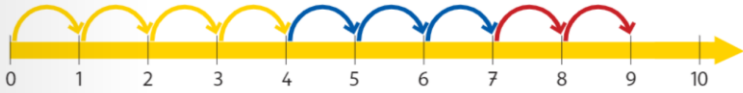
PREŠTEJ: -  IN ŠTEVILO ZAPIŠI V PRVO OKENCE,

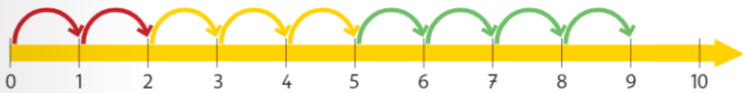
-  IN ŠTEVILO ZAPIŠI V DRUGO OKENCE,

-  IN ŠTEVILO ZAPIŠI V TRETJE OKENCE.

SEŠTEJ 1. IN 2. SEŠTEVANEC IN VSOTO ZAPIŠI NA LOK POD NJIMA. NATO DELNEMU REZULTATU PRIŠTEJ ŠE 3. SEŠTEVANEC IN VSOTO ZAPIŠI V ZADNJE OKENCE.

 2. OGLEJ SI ŠTEVILSKI TRAK. NAPIŠI RAČUN.

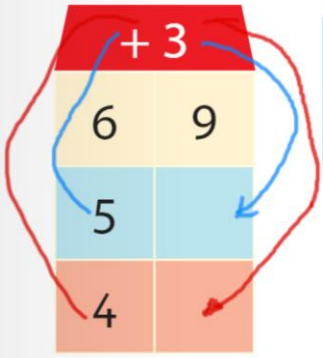


$$\square + \square + \square = \square$$


$$\square + \square + \square = \square$$

3. NALOGA

ŠTEVILU V NADSTROPJU (V OBARVANEM POLJU) **PRIŠTEJ ŠTEVILO 3**. REZULTAT VPIŠI V PRAZNO OKENCE. POMAGAJ SI S PUŠČICAMI.



ŠTEVILOM V OBARVANIH POLJIH **ODŠTEJ ŠTEVILO 3**. REZULTAT VPIŠI V PRAZNO OKENCE.
SLEDI PUŠČICAM.

