

ŠTEVILA DO 15



PRIPRAVI IN








TER GA ODPRI NA STRANI 8



9. NALOGA: NAJPREJ SI DOBRO OGLEDJ SPODNJI PRIKAZ Z VRSTICAMI. EN POBARVAN PROSTORČEK POMENI ENO ŽIVAL.

MIHA JE OBISKAL PRODAJALNO MALIH ŽIVALI. PREŠTEL JE ŽIVALI IN ŠTEVILO POSAMEZNIH ŽIVALI PRIKAZAL V PRIKAZU Z VRSTICAMI.

															
															
															
															
															
	1	2	3	4	5	6	7	8	9	10	11	12	13	14	15

LEGENDA: JE 1 ŽIVAL

V PRIKAZU Z VRSTICAMI POIŠČI PODATKE O TEM, KOLIKO JE POSAMEZNIH ŽIVALI. NA PRVI SLIKI JE HRČEK. V PRIKAZU PREŠTEJ ŠTEVILO MODRO POBARVANIH OKENC IN ŠTEVILO VPIŠI POD NJEGOVO SLIKO. ENAKO NAREDI TUDI ZA OSTALE ŽIVALI.



V PRIKAZU Z VRSTICAMI POIŠČI PODATKE IN JIH NAPIŠI.

					
ŠTEVILO					

SEDAJ BOŠ GLEDE NA PODATKE OBKROŽIL/A USTREZNE ODGOVORE. POMAGAJ SI S PRIKAZOM Z VRSTICAMI ALI ZGORNJO PREGLEDNICO.

KATERIH ŽIVALI JE NAJVEČ?



KATERIH ŽIVALI JE NAJMANJ?



ENAKO MNOGO JE  IN  . DA NE



BRAVO! USPEŠNO SI OPRAVIL/A VSE DANAŠNJE MATEMATIČNE NALOGE.