


VADIM IN ZBIRAM SONČKE






ODPRI NA STRANI 78





IN REŠI 6. NALOGO.

6. NALOGA: OGLEJ SI SLIKO GEOMETRIJSKIH TELES. PREBERI BESEDILNO NALOGO, ZAPIŠI RAČUN IN ODGOVOR.

**6. REŠI.**

LUKA JE IMEL 5 , SAŠA JE IMELA 3 , TIM PA 2 .

KOLIKO GEOMETRIJSKIH TELES SO IMELI VSI SKUPAJ?

RAČUN: \_\_\_\_\_

ODGOVOR: VSI SKUPAJ SO IMELI \_\_\_\_\_ GEOMETRIJSKIH TELES.



ODPRI NA STRANI 79




IN REŠI 7. NALOGO.

7. NALOGA: REŠI RAČUNE.

**7. IZRAČUNAJ.**

$6 - 0 = \square$        $4 - 4 = \square$   
 $7 + 3 = \square$        $10 - 2 = \square$   
 $4 - 1 = \square$        $2 + 7 = \square$   
 $0 + 4 = \square$        $9 + 0 = \square$

SI PREVERIL REZULTATE?



8. NALOGA: PREBERI BESEDILNO NALOGO. SESTAVI RAČUN IN ODGOVORI NA VPRAŠANJE. RAZMISLI, ALI BOŠ SESTAVIL/A RAČUN SEŠTEVANJA ALI ODŠTEVANJA. KAJ BOŠ NAREDIL/A PRI KROŽCIH?



## 8. IZRAČUNAJ.

V ŠKATLI JE BILO 9 KOCK. MIHA JE VZEL 4 KOCKE.  
KOLIKO KOCK JE OSTALO V ŠKATLI?



RAČUN: \_\_\_\_\_

ODGOVOR: V ŠKATLI JE OSTALO \_\_\_\_\_ KOCK.

9. NALOGA: V SPODNJI TABELI ZAPIŠI MANJKAJOČA ŠTEVILA. PAZI, DA SI BODO SLEDILA PO VRSTI.



## 9. VPIŠI ŠTEVILA TAKO, DA SI BODO SLEDILA PO VRSTI.

1	2				6				
---	---	--	--	--	---	--	--	--	--

	9	8						2	
--	---	---	--	--	--	--	--	---	--



BRAVO! NAREDIL/A SI VSE NALOGE.