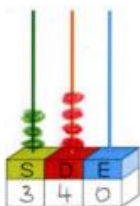
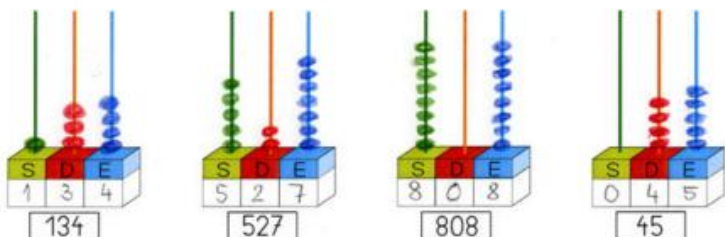
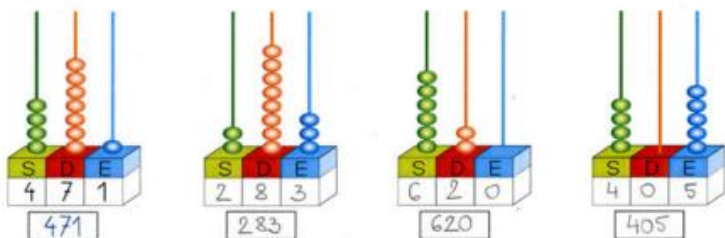


MATEMATIKA, sreda, 1. 4. 2020: ŠTEVILA DO 1000 – REŠITVE

19 PRIMERJAMO ŠTEVILA DO 1000

1. Dopolni.



tristo štirideset = 340




petsto štirindvajset = 524

2. Zapiši število s številko in z besedo.

3 S 4 D 5 E $300 + 40 + 5 = 345$ tristo petinštirideset
 7 S 1 D 8 E $700 + 10 + 8 = 718$ sedemsto osemnajst
 2 S 9 D $200 + 90 = 290$ dvesto devetdeset
 1 S 7 E $100 + 7 = 107$ sto sedem
 8 D 9 E $80 + 9 = 89$ devetinasumdeset
 4 S 400 štiristo
 6 D 60 šestdeset

3. Pobarvaj panje s števili, ki so večja od 400.



4. Pobarvaj panje s števili, ki so večja od 237 in manjša od 600.



20 ŠTEVILA DO 1000

1. Dopolni. Vstavi znak $>$, $<$ ali $=$.

$$\begin{array}{lll} 16 < 91 & 317 > 307 & 507 > 88 \\ 497 < 800 & 901 > 199 & 786 < 900 \\ 56 = 56 & 27 < 270 & 404 > 44 \end{array}$$

2. Odgovori na vprašanja.

Katero je najmanjše trimestno število? 100

Katero je največje trimestno število? 999

Katero je najmanjše trimestno število, ki ga lahko zapišeš s števki 4, 3 in 8? 348

Katero je največje trimestno število, ki ga lahko zapišeš s števki 4, 3 in 8? 843

3. Dopolni.

$$\begin{array}{lll} 425 < 500 & 560 = 560 & 98 = 98 \\ 297 > 200 & 400 > 393 & 10 < 100 \end{array}$$

Ali je tu
več rešitev?



4. Zapiši predhodnik in naslednik danega števila.

Predhodnik	216	650	799	698
Število	217	651	800	699
Naslednik	218	652	801	700