

Danes boš pri matematiki:

- Spoznal mersko enoto za denar (CENT) in njegove vrednosti.
- Sešteval in odšteval z evri.
- Uporabil računske operacije pri reševanju problemov.



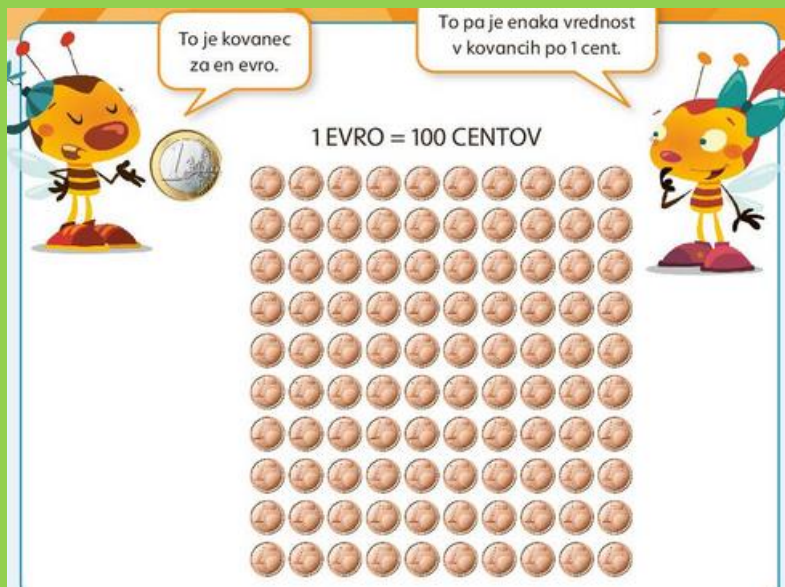
**Kaj misliš, kaj lahko kupiš za 1 evro?**

Morda liziko? Majhno čokoladico pri blagajni? To bi šlo.

Najbrž si že opazil, da imamo tudi manjše kovance, kot sta 2 evra in 1 evro. To so **CENTI**.



**VREDNOST 1 EVRA DOBIMO TAKO, DA DAMO NA KUPČEK 100 CENTOV**  
**1 EVRO = 100 CENTOV**



Poglejmo primere, kako z različnimi CENTI lahko dobimo 1 EVRO.



Na strani 87, reši 2. nalogo. Pozorno poglej kovance v denarnicah in odgovori na vprašanja.




Zdaj se bomo preselili v trgovino z oblačili 😊

To je CENIK v trgovini.

HLAČE	20 €
KRILO	20 €
PULLOVER	30 €
MAJICA	10 €
KAPA	8 €
NOGAVICE	2 €

Rada bi si kupila HLAČE IN MAJICO. Koliko denarja potrebujem?

Račun: 20 € + 10 € = 30 €  PAZI, DA NE POZABIŠ NAPISATI ZNAKA ZA EVRO.

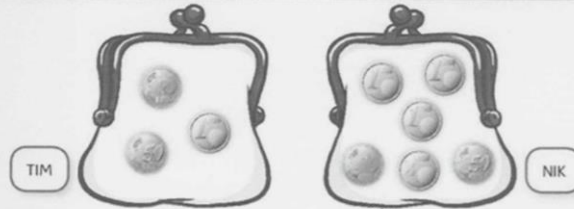
Odgovor: Potrebujem 30 evrov.



V delovnem zvezku na strani 88 reši naloge.

Spodaj te čakajo... ? 😊

2. Napiši podatke.



1. Kdo ima v denarnici več kovancev? Nik.
2. Koliko denarja ima v denarnici Tim? 71 centov.
3. Koliko denarja ima v denarnici Nik? 65 centov.
4. Kdo ima manj denarja? Nik.

3. V vsako denarnico na različne načine nariši bankovce in kovance v vrednosti 52 evrov.



4. Seštej ali odštej.

$40\text{€} + 4\text{€} = 44\text{€}$	$70\text{€} + 4\text{€} = 74\text{€}$	$93\text{€} + 4\text{€} = 97\text{€}$
$75\text{€} - 2\text{€} = 73\text{€}$	$96\text{€} + 4\text{€} = 100\text{€}$	$37\text{€} - 6\text{€} = 31\text{€}$
$36\text{€} + 1\text{€} = 37\text{€}$	$83\text{€} - 3\text{€} = 80\text{€}$	$70\text{€} + 7\text{€} = 77\text{€}$
$88\text{€} - 7\text{€} = 81\text{€}$	$59\text{€} + 0\text{€} = 59\text{€}$	$83\text{€} - 3\text{€} = 80\text{€}$
$91\text{€} + 9\text{€} = 100\text{€}$	$68\text{€} - 7\text{€} = 61\text{€}$	$48\text{€} + 2\text{€} = 50\text{€}$

5. Anže je imel 42 €. Mamica mu je dala 4 €, očka pa 3 €. Koliko evrov je imel Anže?

$$42\text{€} + 4\text{€} + 3\text{€} = 49\text{€}$$

Odgovor: Anže je imel 49 evrov.

Kupil si je igračo za 8 €. Koliko evrov mu je ostalo?

$$49\text{€} - 8\text{€} = 41\text{€}$$

Odgovor: Ostalo mu je 41 evrov.