

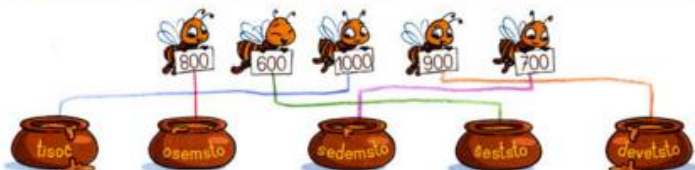
# MATEMATIKA, torek, 31. 3. 2020: PRIMERJAMO IN UREJAMO ŠTEVILA DO 1000 – REŠITVE

## 18 UREJAMO ŠTEVILA DO 1000

1. Vpiši manjkajoče stotice, tako da si bodo sledile od najmanjše do največje.



2. Vsako čebelo poveži s pripadajočim lončkom medu.



3. Dopolni.

$$\begin{array}{l} 1 \text{ D} = \underline{10} \\ 3 \text{ S} = \underline{300} \end{array} \quad \begin{array}{l} 4 \text{ D} = \underline{40} \\ 1 \text{ T} = \underline{1000} \end{array} \quad \begin{array}{l} 7 \text{ S} = \underline{700} \\ 1 \text{ T} = \underline{1000} \end{array}$$


4. Dopolni. Vstavi znak >, < ali =.

$$\begin{array}{lll} 500 > 300 & 600 < 900 & 1000 > 100 \\ 200 < 800 & 400 = 400 & 700 < 900 \end{array}$$

5. Čebelam vpiši števila 600, 1000, 100, 700 in 300, urejena od največjega do najmanjšega.




6. Dopolni.



S	D	E
1	3	6

$$1 \text{ S } 3 \text{ D } 6 \text{ E} = 136$$


sto šestintrideset



S	D	E
2	4	3

$$2 \text{ S } 4 \text{ D } 3 \text{ E} = 243$$


dvesto trinštrideset



S	D	E
3	7	0

$$3 \text{ S } 7 \text{ D } 0 \text{ E} = 370$$

tristo sedemdeset



S	D	E
2	0	5

$$2 \text{ S } 0 \text{ D } 5 \text{ E} = 205$$

dvesto pet