


Matematika, 16. 4. 2020: REŠITVE PREVERJANJA ZNANJA

1. Obkroži, kolikšen del lika je pobarvan.

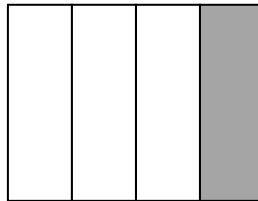


a) polovica

b) tretjina

c) četrtnina

č) šestina



a) polovica

b) tretjina


c) četrtnina

č) šestina

2. Ustrezno pobarvaj, odgovori.

Mitja je narisal 12 kvadratov.

Ena četrtnina je zelenih, ostali so rdeči.



Koliko kvadratov je pobarval zeleno? **3**

Koliko kvadratov je pobarval rdeče? **9**

Ali je rdečih kvadratov več kot polovica? **DA**

3. Izračunaj.

$$\begin{array}{cccc} 7 \cdot 7 = 49 & 7 \cdot 3 = 21 & 5 \cdot 8 = 40 & 4 \cdot 6 = 24 \\ 8 \cdot 4 = 32 & 6 \cdot 9 = 54 & 2 \cdot 5 = 10 & 3 \cdot 9 = 27 \end{array}$$

4. Izračunaj.

$$\begin{array}{cccc} 27 : 3 = 9 & 35 : 7 = 5 & 30 : 6 = 5 & 49 : 7 = 7 \\ 28 : 4 = 7 & 32 : 8 = 4 & 48 : 6 = 8 & 56 : 8 = 7 \end{array}$$

5. Izračunaj na dolg način.

$$\begin{array}{cc} 3 \cdot 7 + 5 \cdot 1 = 21+5=26 & 2 \cdot 6 + 8 \cdot 8 = 12+64=76 \\ 9 \cdot 4 - 2 \cdot 4 = 36-8=28 & 2 \cdot 8 - 4 \cdot 0 = 16-0=16 \end{array}$$

Preberi nalogo. Podčrtaj pomembne podatke. Naredi skico/načrt.
Reši nalogo.

**6. Na polici je 63 knjig. V torbi je devet krat manj knjig.
Koliko knjig je v torbi?**

N: Nariše vsak učenec po svoje.

R: $63:9=7$

O: V torbi je 9 knjig.

7. V gozdu raste 48 bukev in nekaj kostanjev. Ostala drevesa so iglavci. Vsega skupaj je v gozdu 62 listavcev. Koliko je kostanjev?

N: **Nariše vsak učenec po svoje.**

R: **62-48=14**

O: **Kostanjev je 14.**

8. Učenci 3. razreda so imeli športni dan. Izbirali so lahko med različnimi športi. Vsak je lahko izbral en šport.

Dopolni podatke v prikazu.

☺ ☺ ☺ ☺ ☺ ☺ ☺ ☺	☺ ☺ ☺ ☺	☺ ☺ ☺ ☺ ☺ ☺	☺ ☺
SANKANJE	SMUČANJE	DRSANJE	TEK NA SMUČEH
8	4	6	2

Legenda: ☺ je 1 učenec

Poišči podatke in jih napiši.

Kateri šport je izbralo največ učencev? **Sankanje**

Kateri šport je izbralo najmanj učencev? **Tek na smučeh**

Koliko učencev je izbralo smučanje? **4**

Za kateri šport se je odločilo osem učencev? **Drsanje**

Koliko učencev je v razredu? **20**