



2. pisni preizkus znanja iz matematike za 3. razred, 13. 5. 2020

Množenje, deljenje, deli celote, številski izrazi, matematični problemi.

Ime: _____

1. Ustrezno pobarvaj in odgovori.

/4T

Metka je narisala 15 zvezdic. Ena tretjina je zelenih, ostale so modre.



Koliko zvezdic je pobarvala zeleno? _____

Koliko zvezdic je pobarvala modro? _____

Ali je zelenih zvezdic več kot modrih? _____

2. Izračunaj.

/8T

$$7 \cdot 8 = \underline{\quad\quad} \quad 4 \cdot 3 = \underline{\quad\quad} \quad 5 \cdot 9 = \underline{\quad\quad} \quad 9 \cdot 6 = \underline{\quad\quad}$$

$$6 \cdot 4 = \underline{\quad\quad} \quad 8 \cdot 9 = \underline{\quad\quad} \quad 2 \cdot 7 = \underline{\quad\quad} \quad 3 \cdot 9 = \underline{\quad\quad}$$

3. Izračunaj.

/8T

$$28 : 4 = \underline{\quad\quad} \quad 35 : 5 = \underline{\quad\quad} \quad 40 : 8 = \underline{\quad\quad} \quad 63 : 7 = \underline{\quad\quad}$$

$$24 : 3 = \underline{\quad\quad} \quad 42 : 7 = \underline{\quad\quad} \quad 81 : 9 = \underline{\quad\quad} \quad 36 : 6 = \underline{\quad\quad}$$

4. Izračunaj na dolg način.

/8T

$$3 \cdot 8 + 7 \cdot 1 = \underline{\hspace{10cm}}$$

$$3 \cdot 6 + 9 \cdot 8 = \underline{\hspace{10cm}}$$

$$8 \cdot 5 - 2 \cdot 6 = \underline{\hspace{10cm}}$$

$$5 \cdot 8 - 4 \cdot 0 = \underline{\hspace{10cm}}$$

5. Preberi nalogo. Podčrtaj pomembne podatke. Naredi skico/načrt. Reši nalogo.

/5T

Na praznovanje Metkinega rojstnega dne je prišlo 7 otrok. Metka je stanovanje okrasila s 63 baloni. Ob koncu praznovanja bo vsakemu otroku podarila balone. Pravično bo delila. Koliko balonov bo dobil vsak otrok?

6. Preberi nalogo. Podčrtaj pomembne podatke. Naredi skico/načrt. Reši nalogo.

/5T


V mali dvorani je 8 vrst. V vsaki vrsti je 8 stolov. Koliko stolov je v mali dvorani?

7. Preberi nalogo. Podčrtaj pomembne podatke. Naredi skico/načrt. Reši nalogo. /7T

V jedilnici je bilo za malico pripravljenih 9 miz. Na vsaki mizi so bile 3 žlice, 3 vilice in 3 noži. Koliko je bilo vsega pribora skupaj?

8. Obkroži, kolikšen del lika je pobarvan.

/2T








- a) polovica
- b) tretjina
- c) četrtnina
- č) šestina



- a) polovica
- b) tretjina
- c) četrtnina
- č) šestina

9. Preberi nalogo in preglednico. Odgovori na vprašanja.**/7T**

Anže je vprašal sošolce, katere živali so jim všeč. Podatke je prikazal v preglednici.

| |  |  |  |  |  |
|------|---|---|---|---|---|
| JAN | X | X | | | X |
| ANA | X | | | X | X |
| NEŽA | | | | X | X |
| MIHA | X | X | X | X | X |
| ALEŠ | | X | X | | X |
| URH | | | | | X |
| ŽANA | X | | | X | X |
| TIM | X | X | | | X |

Odgovori na vprašanja. Podatke poišči v preglednici.

Katera žival je najbolj priljubljena? _____

Katera žival je učencem najmanj všeč? _____

Koliko učencev si je izbralo žirafa? _____

Komu je všeč opica? _____

Katere živali si je izbralo enako mnogo učencev? _____

Komu je všeč le ena žival? _____

Kateri učenci so si izbrali dve živali? _____

| | | | | | |
|----------|----------|-----------|-----------|-----------|------------|
| % | 0 %–44 % | 45 %–59 % | 60 %–74 % | 75 %–89 % | 90 %–100 % |
| št. točk | 0–23 | 24–32 | 33–40 | 41–48 | 49–54 |
| ocena | nzd (1) | zd (2) | db (3) | pdb (4) | odl (5) |

Število doseženih točk: _____

Ocena: _____